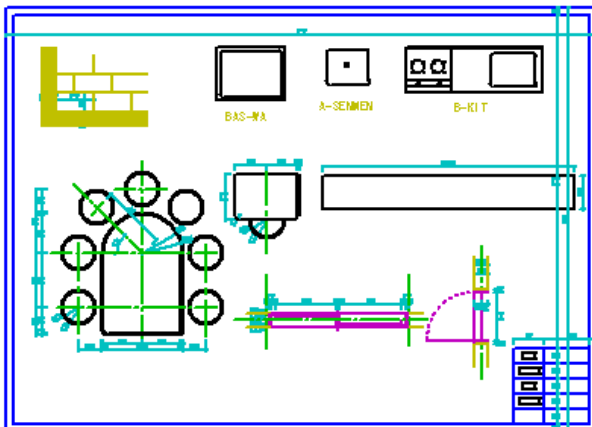
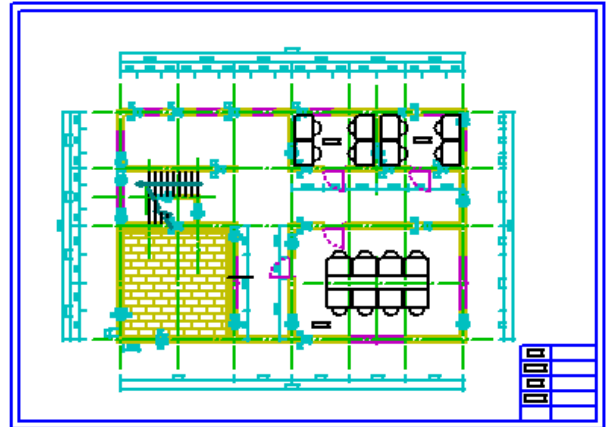
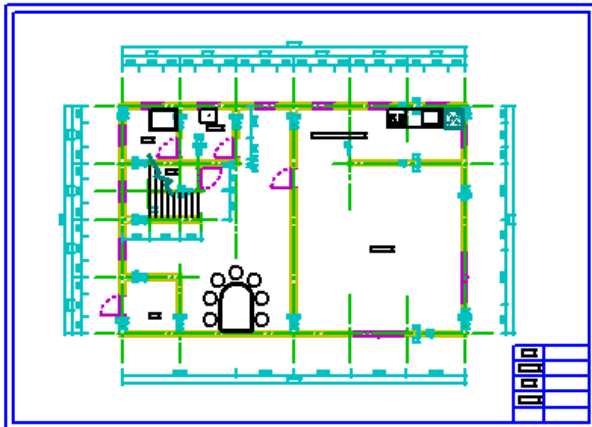


## 《最終課題》

以下の3枚の図面を作図しましょう

3枚とも1つのファイルに作図します。ファイル名は「最終課題」とします。

(完成ファイルを印刷する時は一図面ずつ印刷範囲を変更して印刷します)



細かい寸法等は、23 ページからの完成図を参考に作図してください。

### 1階

用紙サイズ:「A-3」

縮 尺:「1 : 50」

作図グループ:「0グループ」

0レイヤ 基準線 : 緑・一点鎖線

1レイヤ 壁 : 黄色・実線

2レイヤ 建具 : 紫・実線

3レイヤ 寸法

4レイヤ 文字

5レイヤ 設備 : 黒・実線

6レイヤ 階段 : 黒・実線

7レイヤ 記号 : 灰青・実線

